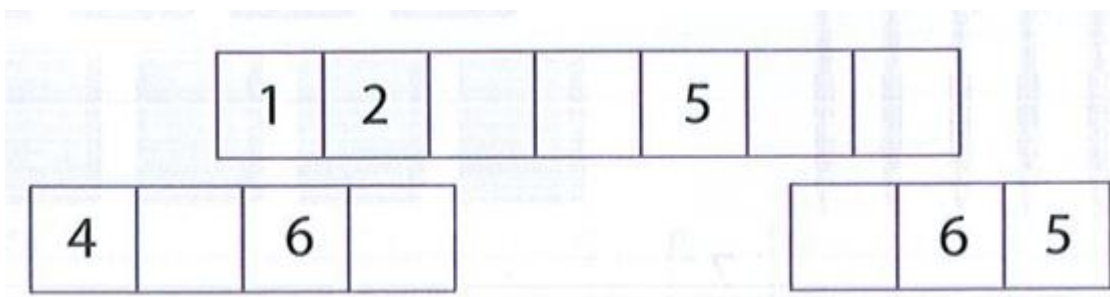


Thứ năm, ngày 16 tháng 12 năm 2021  
ÔN TẬP TOÁN

1. Nói đồ dùng với hình phù hợp:



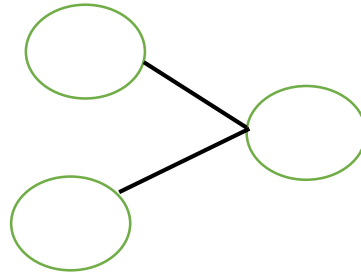
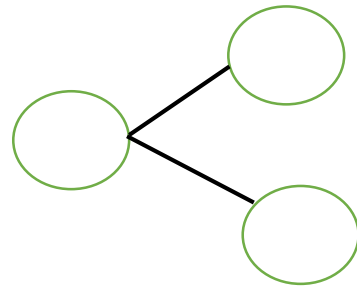
2. Số?



3. Số?



4. Hoàn thành sơ đồ tách-gộp:



5. Nối số với ô phù hợp:

Truck with  $? > 3$   
 Options: 2, 4

Truck with  $? > 1$   
 Options: 0, 5

Truck with  $? > 7$   
 Options: 8, 6

Truck with  $3 < ?$   
 Options: 4, 2

Truck with  $6 < ?$   
 Options: 5, 8

Truck with  $4 < ?$   
 Options: 9, 3

6. Sắp xếp các số 4; 7; 6; 9 theo thứ tự:

- Từ bé đến lớn: 

--	--	--	--

- Từ lớn đến bé: 

--	--	--	--