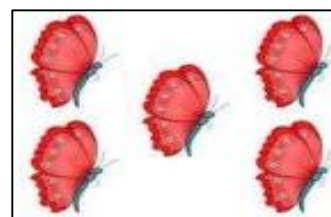





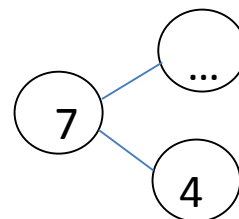

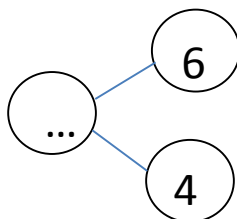

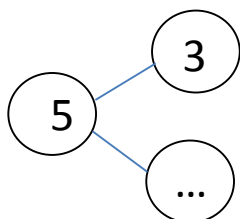

Thứ sáu, ngày 17 tháng 12 năm 2021

ÔN TẬP TOÁN

1. Số ?



2. Hoàn thành sơ đồ tách gộp.



3. Điền dấu >, =, < thích hợp vào ô trống.

4		7
---	--	---

6		8
---	--	---

5		5
---	--	---

10		9
----	--	---

4. Cho các số: 7, 10, 8, 2


a) Viết theo thứ tự từ **bé** đến **lớn**:

--	--	--	--

b) Viết theo thứ tự từ **lớn** đến **bé**:

--	--	--	--

5. Quan sát tranh và đếm số hình:



.....: ○

.....: □

.....: △

.....: ▭

